

Победа

10-8

РОССИЙСКАЯ ФЕДЕРАЦИЯ  
РЕСПУБЛИКА БАЛКАРИЯ  
МЕСТНАЯ АДМИНИСТРАЦИЯ  
ЦЕНТРАЛЬНОГО МУНИЦИПАЛЬНОГО РАЙОНА  
МУНИЦИПАЛЬНОЕ УЧРЕЖДЕНИЕ  
«СРЕДНЯЯ  
ОБЩЕОБРАЗОВАТЕЛЬНАЯ  
ШКОЛА №1  
ИМ. МУХАМЕДА УМАТОВА  
С.П. ВЕРХНЯЯ БАЛКАРИЯ»  
ЦЕНТРАЛЬНОМУНИЦИПАЛЬНОГО РАЙОНА  
БАЛКАРИЯ-БАЛКАРСКОЙ РЕСПУБЛИКИ

30.09.2022

30112, РЭР, Центральная ул.,  
с.п. Верхняя Балкария, ул. Пушкина, №

Олимпиадная работа по ОБЖ

ученика 10 класса Хубаева Динара

МКОУ СОШ №1 с.п.Верхняя Балкария

Председатель жюри: Циканова Р.А.

Члены жюри: Атабиев М.И.

Таукенов А.А.

Цакоев А.И.

ВСЕРОССИЙСКАЯ ОЛИМПИАДА ШКОЛЬНИКОВ  
ПО ОБЖ 2022–2023 уч. г. ШКОЛЬНЫЙ ЭТАП  
10–11 классы

10-8

74

Тестовые задания

Определите один правильный ответ.

За правильный ответ начисляется 2 балла. 0 баллов выставляется за неправильный ответ, а также если участником отмечено более одного ответа (в том числе правильный).

1. **Водитель –**
- а) лицо, управляющее каким-либо транспортным средством
  - б) лицо, управляющее только автомобилем
  - в) лицо, управляющее только автомобилем и автобусом
  - г) лицо, управляющее только мотоциклом, автомобилем и автобусом
2. **В каком направлении нумеруются квартальные столбы, установленные на пересечении лесных просек для указания номеров стандартных лесных кварталов?**
- а) с востока на юг
  - б) с юга на запад
  - в) с юга на север
  - г) с запада на восток
3. **Определите знамя, которое является государственной реликвией России.**



а)



б)



в)



г)

4. **Какое минимальное расстояние друг от друга необходимо соблюдать при переходе водоёма по льду группой?**

- а) 5–6 м
- б) 7–8 м
- в) 3–4 м
- г) 1–2 м

2

2

2

2

2

5. Обнаружена закладка из двух гранат. Установите минимальный радиус зоны эвакуации.

- а) 250 м
- б) 50 м
- в) 230 м
- г) 200 м



2

6. На изображении представлен

- а) Су-57
- б) Су-33
- в) Су-27 СК
- г) Су-35



2

7. К боевым ирритантам относят

- а) хлорпикрин
- б) дифосген
- в) хлорциан
- г) фосген

2

8. Какое воинское звание было у Ю.А. Гагарина во время первого в мире полёта в космос?

- а) старший лейтенант
- б) лейтенант
- в) майор
- г) капитан

2

9. Какое соотношение белков, жиров и углеводов соответственно является оптимальным для взрослых и детей старшего возраста?

- а) 1:1:3
- б) 1:1:4
- в) 1:4:1
- г) 4:1:1

2

10. Обзорный осмотр пострадавшего при оказании первой помощи выполняется с целью выявления признаков

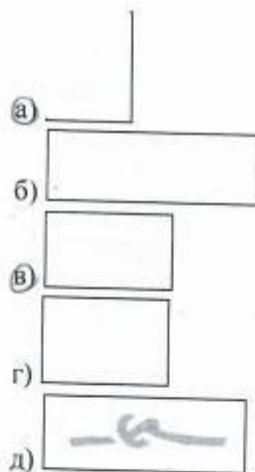
- а) отравления
- б) ожога
- в) закрытой травмы
- г) наружного кровотечения

**Определите два правильных ответа.**

За каждый правильный ответ начисляется 2 балла. 0 баллов выставляется за неправильный ответ, а также если участником отмечены более двух ответов (в том числе правильные).

- 2
1. При движении организованных пешеходных колонн по проезжей части в тёмное время суток спереди и сзади колонны с левой стороны должны находиться сопровождающие с включёнными фонарями
- а) спереди – белого цвета
  - б) сзади – оранжевого цвета
  - в) сзади – красного цвета
  - г) сзади – жёлтого цвета
  - д) спереди – зелёного цвета

2. Какие узлы относятся к вспомогательным?



- 2
3. Бросать спасательный круг в сторону тонущего рекомендуется так, чтобы он упал
- а) справа от тонущего
  - б) слева от тонущего
  - в) сзади от тонущего
  - г) спереди от тонущего
  - д) на тонущего

4. Какие классы пиротехнических изделий бытового назначения можно применять только на улице?

- а) I
- б) II
- в) III
- г) IV
- д) V

2

5. К основным принципам противодействия экстремистской деятельности относятся

- а) гласность
- б) приоритет мер, направленных на ликвидацию последствий экстремистской деятельности
- в) приоритет обеспечения безопасности Российской Федерации
- г) конфиденциальность
- д) приоритет обеспечения безопасности гражданина Российской Федерации






2

6. Определите существующие военные округа при военно-административном делении РФ в настоящее время.

- а) Северный флот
- б) Северо-Кавказский военный округ
- в) Восточный военный округ
- г) Балтийский флот
- д) Сибирский военный округ

2

7. Определите по флагам страны – участницы НАТО.

- а) 
- б) 
- в) 
- г) 
- д) 

2

8. Запас Вооружённых Сил Российской Федерации состоит из

- а) мобилизационного людского резерва
- б) мобилизационного технического резерва
- в) мобилизационной складской базы
- г) мобилизационного технического ресурса
- д) мобилизационного людского ресурса

2

2

9. Меры профилактики инфекционных заболеваний с трансмиссивным механизмом передачи инфекции:

- а) регулярное мытьё рук
- б) использование медицинских трёхслойных одноразовых масок
- в) проведение дезинсекции
- г) проведение дезинфекции
- д) использование москитных сеток

2

10. После вакцинации у человека формируется иммунитет:

- а) пассивный
- б) активный
- в) приобретённый
- г) врождённый
- д) видовой

### Теоретические задания

#### Задание 1

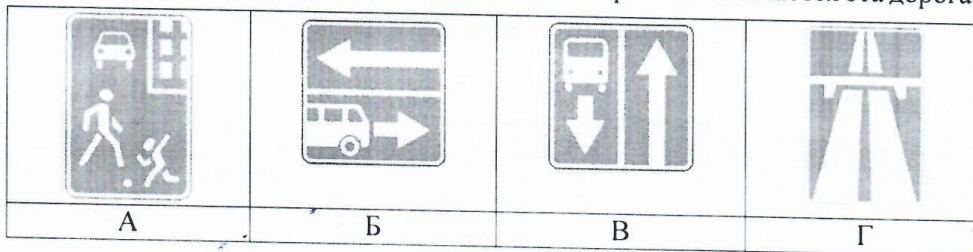
1. Расположите предложенные фрагменты в верной последовательности, чтобы в итоге получилось определение.
- 1) или трамвайными путями, пешеходными или велосипедными дорожками
  - 2) движения проезжие части, отделённые друг от друга разделительной полосой (а при её отсутствии – дорожным ограждением),
  - 3) без пересечений в одном уровне с другими дорогами, железнодорожными
  - 4) дорога, обозначенная специальным
  - 5) знаком и имеющая для каждого направления

Ответ: \_\_\_\_\_  
\_\_\_\_\_  
\_\_\_\_\_  
\_\_\_\_\_

2. Запишите термин, определение которому Вы составили.

Ответ: \_\_\_\_\_.

3. Выберите изображение знака, с помощью которого обозначается эта дорога.




Ответ: \_\_\_\_\_.

### Задание 2

Автомат Калашникова является индивидуальным оружием и предназначен для уничтожения живой силы и поражения огневых средств противника.

1. Определите, на каком изображении представлен АК-12.



Ответ: \_\_\_\_\_.

2. Определите характеристики АК-12. Подчеркните верный ответ.


- Применяемый боеприпас – 5,45x39; 7,62x39; 5,56x45
- Ёмкость магазина – 30 патронов; 45 патронов; 20 патронов
- Режимы ведения огня – с отсечкой по 2, одиночный, автоматический; с отсечкой по 3, автоматический; одиночный, автоматический
- Наличие штатного глушителя – есть; нет
- Возможность установки штык-ножа – есть; нет
- Возможность оперативной замены ствола – есть; нет

10

### Задание 3

В Вооружённых Силах Российской Федерации устанавливаются составы военнослужащих и воинские звания.

Укажите наименования воинских званий в соответствии со знаками различия на погонах лейтенант, старший лейтенант, майор, полковник, генерал-майор, генерал-лейтенант, генерал-полковник, генерал армии.



10